

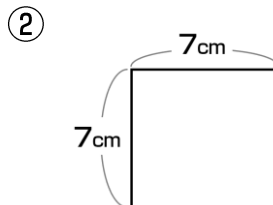
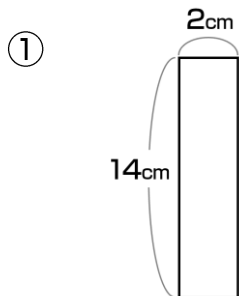
長方形と正方形の面積



AARALRA030

1

次の面積を求めましょう。

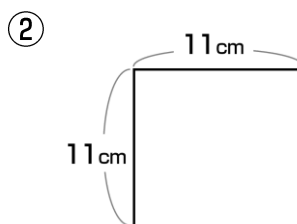
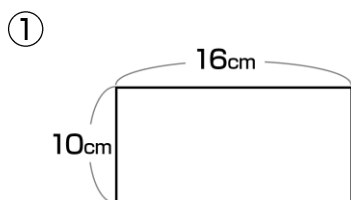


①

②

2

次の面積を求めましょう。

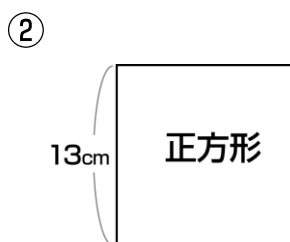
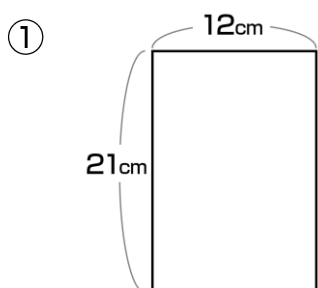


①

②

3

次の面積を求めましょう。

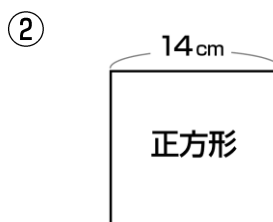
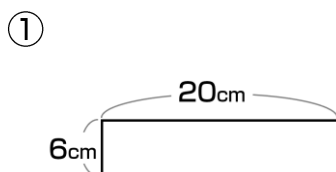


①

②

4

次の面積を求めましょう。



①

②