

平行四辺形の面積

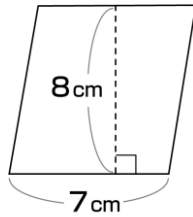


AARALRA100

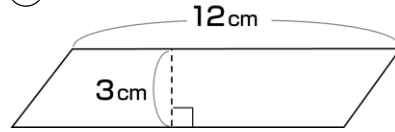
1

次の平行四辺形の面積を求めましょう。

①



②



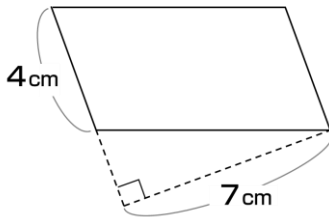
①

②

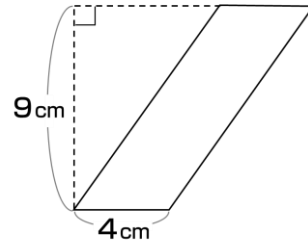
2

次の平行四辺形の面積を求めましょう。

①



②



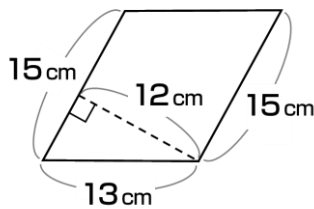
①

②

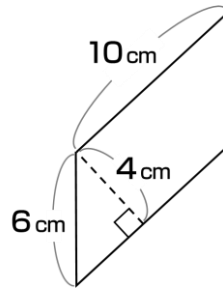
3

次の平行四辺形の面積を求めましょう。

①



②



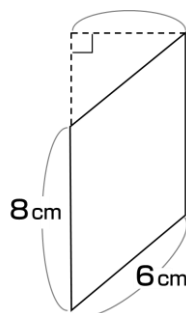
①

②

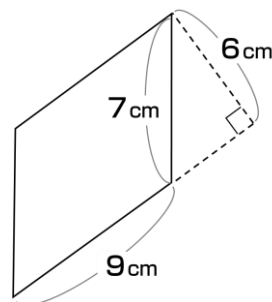
4

次の平行四辺形の面積を求めましょう。

①



②



①

②