

# 三角形の面積

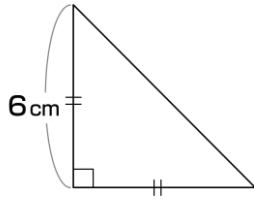


AARALRA110

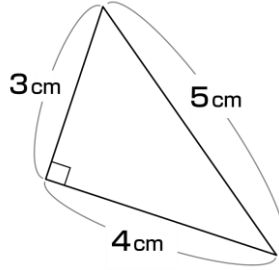
1

次の三角形の面積を求めましょう。

①



②



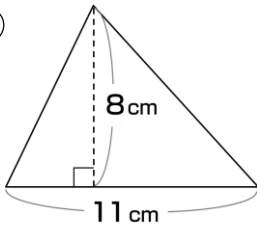
①

②

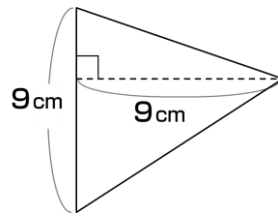
2

次の三角形の面積を求めましょう。

①



②



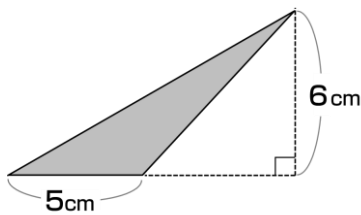
①

②

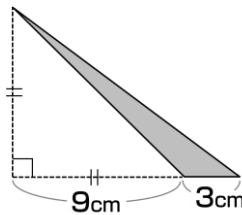
3

次の三角形の面積を求めましょう。

①



②



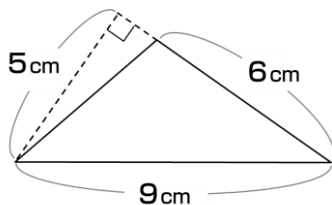
①

②

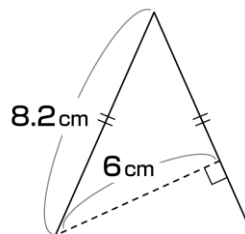
4

次の三角形の面積を求めましょう。

①



②



①

②