

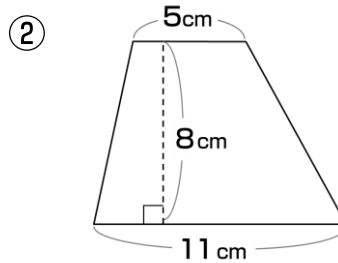
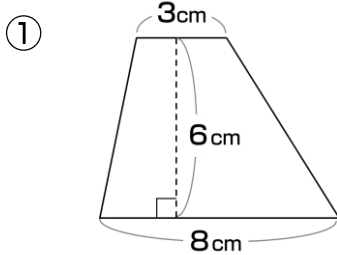
# 台形の面積



AARALRA120

1

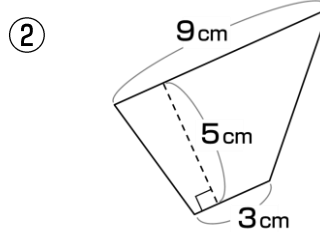
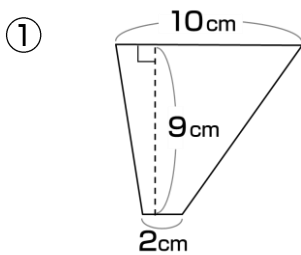
次の台形の面積を求めましょう。



- ①
- ②

2

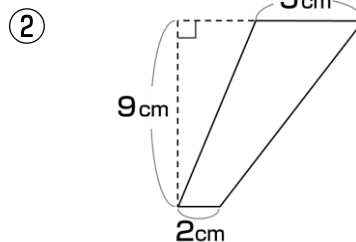
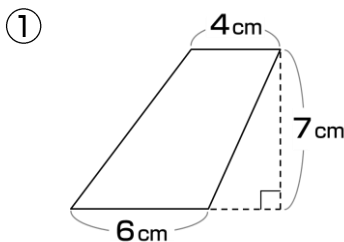
次の台形の面積を求めましょう。



- ①
- ②

3

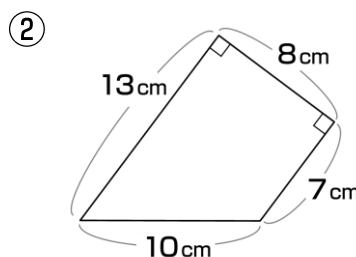
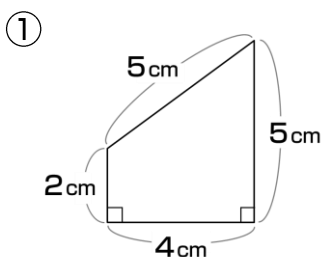
次の台形の面積を求めましょう。



- ①
- ②

4

次の台形の面積を求めましょう。



- ①
- ②