

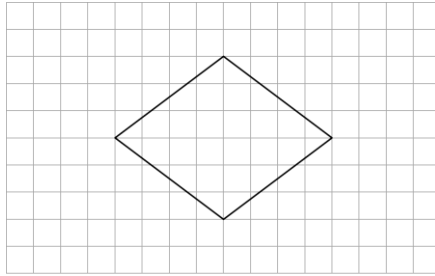
ひし形の面積



AARALRA130

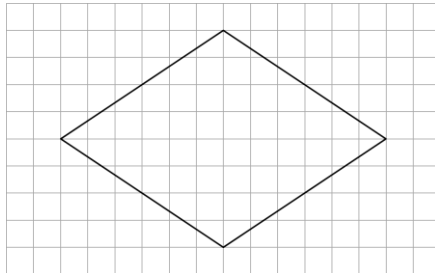
1

次の方眼の1目もりは1cmです。ひし形の面積を求めましょう。



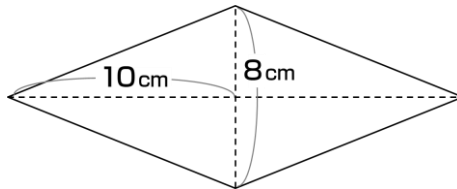
2

次の方眼の1目もりは1cmです。ひし形の面積を求めましょう。



3

次のひし形の面積を求めましょう。



4

次のひし形の面積を求めましょう。

