

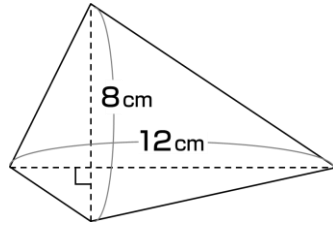
対角線が垂直な四角形の面積



AARALRA140

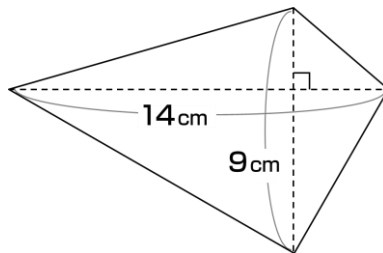
1

次の四角形の面積を求めましょう。



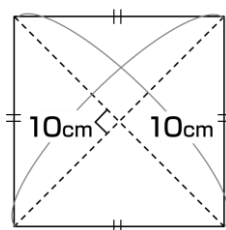
2

次の四角形の面積を求めましょう。



3

次の四角形の面積を求めましょう。



4

次の四角形の面積を求めましょう。

