


**小学算数**

**ユニボ先生対応問題集**

**一年生**





# 学習テーマ

## 10までの かず

1. 5までのかず
2. 10までのかず
3. 0について
4. おおきさくらべ

## なんばんめ

5. じゅんばん

## あわせた かず

6. いくつといくつ
7. たしざん

## のこりと ちがいの かず

8. のこりはいくつ
9. ちがいはいくつ
10. ひきざん

## おおきさくらべ

11. ながさくらべ
12. かさくらべ
13. 広さくらべ

## たしざんとひきざん

14. 10よりおおきいかず
15. たしざん(2けた+1けた)
16. ひきざん(2けた-1けた)
17. たして10になるかず

## 3つのかずのけいさん

18. 3つのかずのたしざん
19. 3つのかずのひきざん
20. たしてひく
21. ひいてたす

## くりあがり と くりさがりの ある けいさん

22. くりあがり の あるたしざん
23. くりさがり の あるひきざん

## ものの かたち

24. いろいろな かたち
25. かたちの なかま

## とけいの よみかた

26. とけい ちょうどなんじ
27. とけい なんじはん
28. とけい なんじなんぷん 1
29. とけい なんじなんぷん 2

## 100までの かずの たしざん

30. 100までの かず
31. たしざん  $30+20$
32. たしざん  $50+6$
33. たしざん  $23+4$

## 100までのかずの ひきざん

34. ひきざん  $50-30$
35. ひきざん  $55-20$
36. ひきざん  $55-3$
37. ひきざん  $55-23$
38. ひきざん  $12-8$

## おなじ かずずつ くばる・わかる

39. おなじ かずずつ くばる
40. おなじ かずずつ わける

## たしざんひきざんのもんだい

41. たしざんひきざんのもんだい

## かたちづくり

42. 三かく・四かく・まる
43. かたちづくり
44. かたちをうつす
45. かたちをかえる

## おおいほう、すくないほう

- 46 おおいほう、すくないほう

# 1. 5までのかず




AARNUMA010


1

りんごのかずはいくつでしょう。

①



②

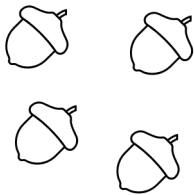


	①	②
/		
/		
/		

2

どんぐりのかずはいくつでしょう。

①



②




	①	②
/		
/		
/		


3

カメレオンのかずはいくつでしょう。

①



②




	①	②
/		
/		
/		

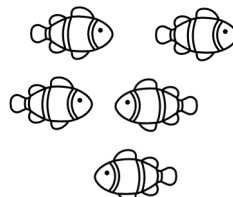
4

カクレマノミのかずはいくつでしょう。

①



②



	①	②
/		
/		
/		


# 2. 10までのかず



AARNUMA012

1


りんごのかずをかきましょう。



/	
/	
/	

2


カニのかずをかきましょう。



/	
/	
/	

3


カメレオンのかずをかきましょう。



/	
/	
/	

4

ひよこのかずをかきましょう。



/	
/	
/	




# 3. 0について

AARNUMA014

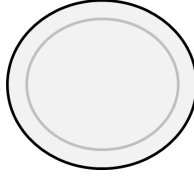
1

いちごのかずをかきましょう。


①



②



③

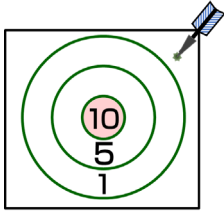


	①	②	③
/			
/			
/			

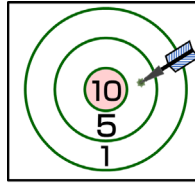
2

なんてんでしょう。

①



②



	①	②
/		
/		
/		

3

ちいさいじゅんにならべましょう。

① 3 4 0

② 7 5 0

	①	②
/		
/		
/		

4

おおきいじゅんにならべましょう。

① 8 4 6 0

② 3 7 0 2

	①	②
/		
/		
/		



# 4. おおきさくらべ

AARNUMA016

1

□のなかの かずを かきましょう。

① 2 □ 4 □ 6 7 8

② □ 4 □ 6 7 8 □

	①	②
/		
/		
/		

2

□のなかの かずを かきましょう。

① □ 2 □ 4 5 □ 7

② □ □ 6 7 8 9 □

	①	②
/		
/		
/		

3

おおきいのは どちらでしょう。

① 3 6

② 8 7

	①	②
/		
/		
/		

4

おおきいのは どちらでしょう。

① 5 3

② 7 9

	①	②
/		
/		
/		



# 5. じゅんばん

AARNUMA020

1

- ① タヌキはうえからなんばんめでしょう。
- ② リスはしたからなんばんめでしょう。




	①	②
/		
/		
/		

2

どうぶつたちが おみせのまえに ならんでいます。

- ① リスはまえからなんばんめでしょう。
- ② ウシはうしろからなんばんめでしょう。




	①	②
/		
/		
/		



3


- ① サルはみぎからなんばんめでしょう。
- ② リスはひだりからなんばんめでしょう。



	①	②
／		
／		
／		

4

- ① みぎから4ばんめはだれでしょう。
- ② ひだりから4ばんめはだれでしょう。



	①	②
／		
／		
／		

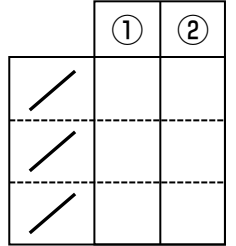
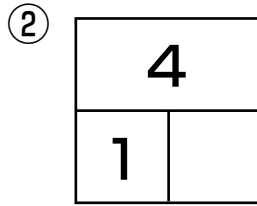
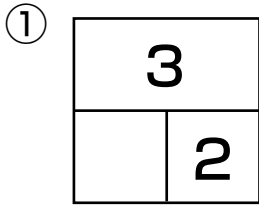


# 6. いくつといくつ

AARNUMA030

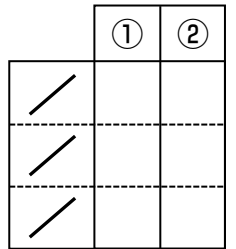
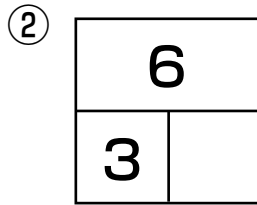
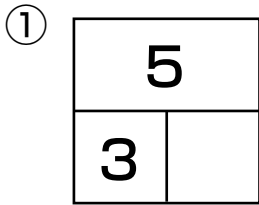
1

いくつといくつでしょう。



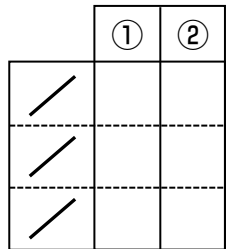
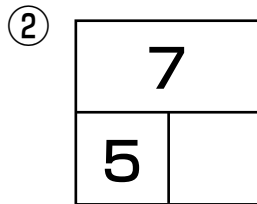
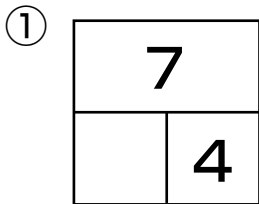
2

いくつといくつでしょう。



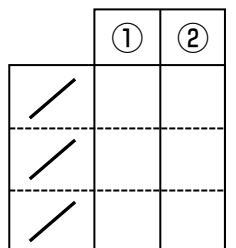
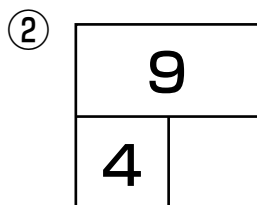
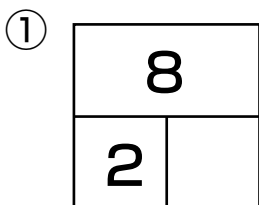
3

いくつといくつでしょう。



4

いくつといくつでしょう。



# 7. たしざん



AARNUMA032

1

つぎのたしざんをしましょう。

①  $1 + 2$

②  $1 + 3$

	①	②
/		
/		
/		

2

つぎのたしざんをしましょう。

①  $2 + 4$

②  $3 + 2$

	①	②
/		
/		
/		

3

つぎのたしざんをしましょう。

①  $6 + 3$

②  $4 + 6$

	①	②
/		
/		
/		

4

つぎのたしざんをしましょう。

①  $1 + 9$

②  $4 + 5$

	①	②
/		
/		
/		


# 8. のこりはいくつ



AARNUMA036

1


4こ たべると のこりは いくつ でしょう。



/	
/	
/	

2


6びき にげると のこりは なんびき でしょう。



/	
/	
/	

3


6まい つかうと のこりは なんまい でしょう。



/	
/	
/	

4

4ほん つむと のこりは なんほん でしょう。



/	
/	
/	



# 9. ちがいはいくつ



AARNUMA034

1



ちがいはいくつでしょう。



/	
/	
/	

2

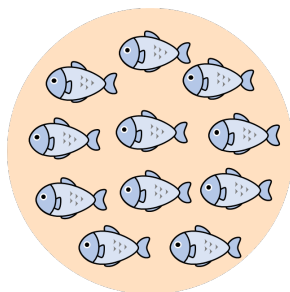
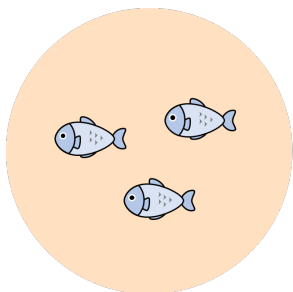
ちがいはいくつでしょう。



/	
/	
/	

3

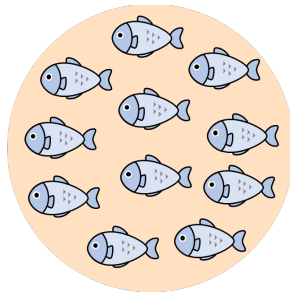
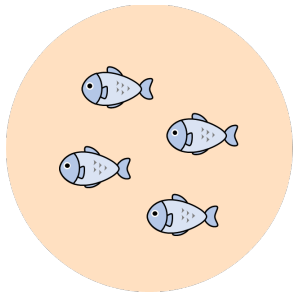
ちがいはいくつでしょう。



/	
/	
/	

4

ちがいはいくつでしょう。



/	
/	
/	

# 10. ひきざん



AARNUMA038

1

つぎのひきざんをしましょう。

①  $3 - 1$

②  $4 - 3$

	①	②
/		
/		
/		

2

つぎのひきざんをしましょう。

①  $6 - 2$

②  $7 - 4$

	①	②
/		
/		
/		

3

つぎのひきざんをしましょう。

①  $10 - 3$

②  $9 - 6$

	①	②
/		
/		
/		

4

つぎのひきざんをしましょう。

①  $5 - 0$

②  $3 - 3$

	①	②
/		
/		
/		

# 11. ながさくらべ



AARMEMA010

1

ながいじゅんにばんごうをつけましょう。

あ( ) 

い( ) 

う( ) 

/	
/	
/	

2

ながいじゅんにばんごうをつけましょう。

あ( ) 

い( ) 


う( ) 


/	
/	
/	

3

ながいじゅんにばんごうをつけましょう。

あ( ) 

い( ) 

う( ) 

/	
/	
/	

4

ながいじゅんにばんごうをつけましょう。

あ( ) 

い( ) 

う( ) 

え( ) 

/	
/	
/	


# 12. かさくらべ




AARMEMA020

1

みずがたくさんはいっているほうに○をつけましょう。



あ( )




い( )


/	
/	
/	

2

みずがたくさんはいっているほうに○をつけましょう。



あ( )



い( )

/	
/	
/	

3

いれものにいっぱいにはいていたみずをコップにうつしました。  
みずがたくさんはいるじゅんにばんごうをつけましょう。

あ( )



い( )




う( )



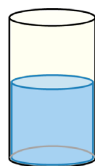
/	
/	
/	

4


みずがたくさんはいっているじゅんにばんごうをつけましょう。



あ( )



い( )



う( )

/	
/	
/	



# 13. 広さくらべ




AARMEMA030

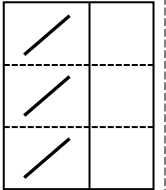

1

次の図形の大きい方は①、②のどちらでしょうか。

①



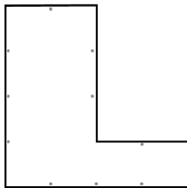
②



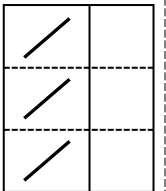
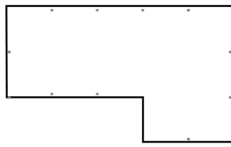
2

次の図形の大きい方は①、②のどちらでしょうか。

①



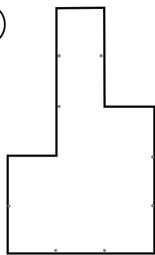
②



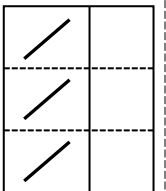
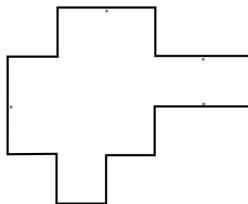
3

次の図形の大きい方は①、②のどちらでしょうか。

①



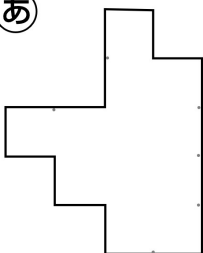
②



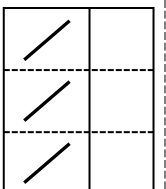
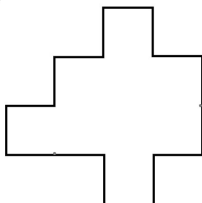
4

次の図形の大きい方は①、②のどちらでしょうか。

①



②



# 14. 10よりおおきいかず



AARNUMA040

1

□にあてはまるかずをかきましょう。

① — 9 — 10 — □ — □ — □ — □ —

② — 15 — 14 — □ — □ — □ — 10 —

	①	②
/		
/		
/		

2

□にあてはまるかずをかきましょう。


① — □ — □ — 13 — □ — □ — 16 —

② — □ — 19 — 18 — □ — □ — 15 —

	①	②
/		
/		
/		

3


どんぐりのかずをかきましょう。



/	
/	
/	

4

さかなのかずをかきましょう。



/	
/	
/	

# 15. たしざん(2けた+1けた)



AARNUMA044

1

つぎのたしざんをしましょう。

①  $10+3$

②  $11+4$

	①	②
/		
/		
/		

2

つぎのたしざんをしましょう。

①  $14+3$

②  $16+2$

	①	②
/		
/		
/		

3

つぎのたしざんをしましょう。

①  $13+5$

②  $17+2$

	①	②
/		
/		
/		

4

つぎのたしざんをしましょう。

①  $11+5$

②  $10+9$

	①	②
/		
/		
/		

# 16. ひきざん(2けた-1けた)



AARNUMA046

1

つぎのひきざんをしましょう。

①  $18-3$

②  $17-5$

	①	②
/		
/		
/		

2

つぎのひきざんをしましょう。

①  $13-3$

②  $15-4$

	①	②
/		
/		
/		

3

つぎのひきざんをしましょう。

①  $12-2$

②  $14-1$

	①	②
/		
/		
/		

4

つぎのひきざんをしましょう。

①  $19-7$

②  $16-5$

	①	②
/		
/		
/		

# 17. たして10になるかず



AARNUMA050

1

つぎの□にあてはまるかずをかきましょう。

①  $9 + \square = 10$

②  $8 + \square = 10$

	①	②
/		
/		
/		

2

つぎの□にあてはまるかずをかきましょう。

①  $\square + 7 = 10$

②  $\square + 5 = 10$

	①	②
/		
/		
/		

3

つぎの□にあてはまるかずをかきましょう。

①  $\square + 6 = 10$

②  $5 + \square = 10$

	①	②
/		
/		
/		

4

つぎの□にあてはまるかずをかきましょう。

①  $\square + 3 = 10$

②  $2 + \square = 10$

	①	②
/		
/		
/		

# 18. 3つのかずのたしざん



AARNUMA055

1

つぎのたしざんをしましょう。

①  $1 + 2 + 3$

②  $2 + 2 + 2$

	①	②
/		
/		
/		

2

つぎのたしざんをしましょう。

①  $5 + 3 + 1$

②  $2 + 4 + 3$

	①	②
/		
/		
/		

3

つぎのたしざんをしましょう。

①  $8 + 2 + 5$

②  $3 + 7 + 6$

	①	②
/		
/		
/		

4

つぎのたしざんをしましょう。

①  $4 + 6 + 8$

②  $5 + 5 + 4$

	①	②
/		
/		
/		

# 19. 3つのかずのひきざん



AARNUMA060

1

3つのかずのひきざんにしてけいさんしましょう。

①  $11 - 4$

②  $12 - 3$

	①	②
/		
/		
/		

2

3つのかずのひきざんにしてけいさんしましょう。

①  $13 - 5$

②  $13 - 8$

	①	②
/		
/		
/		

3

3つのかずのひきざんにしてけいさんしましょう。

①  $15 - 6$

②  $16 - 8$

	①	②
/		
/		
/		

4

3つのかずのひきざんにしてけいさんしましょう。

①  $18 - 9$

②  $14 - 9$

	①	②
/		
/		
/		

# 20. たしてひく



AARNUMA065

1

つぎのけいさんをしましょう。

①  $5 + 4 - 2$

②  $6 + 2 - 5$

	①	②
/		
/		
/		

2

つぎのたしざんをしましょう。

①  $7 + 3 - 2$

②  $4 + 6 - 3$

	①	②
/		
/		
/		

3

つぎのたしざんをしましょう。

①  $7 + 5 - 1$

②  $8 + 6 - 3$

	①	②
/		
/		
/		

4

つぎのたしざんをしましょう。

①  $8 + 8 - 6$

②  $7 + 9 - 8$

	①	②
/		
/		
/		



# 21. ひいてたす



AARNUMA066

1

つぎのけいさんをしましょう。

①  $9 - 2 + 4$

②  $10 - 6 + 4$

	①	②
/		
/		
/		

2

つぎのたしざんをしましょう。

①  $8 - 3 + 7$

②  $9 - 6 + 5$

	①	②
/		
/		
/		

3

つぎのたしざんをしましょう。

①  $14 - 2 + 6$

②  $16 - 5 + 8$

	①	②
/		
/		
/		

4

つぎのたしざんをしましょう。

①  $19 - 7 + 5$

②  $12 - 8 + 4$

	①	②
/		
/		
/		

# 22. くりあがりのあるたしざん



AARNUMA070

1

つぎのたしざんをしましょう。

①  $4 + 7$

②  $6 + 8$

	①	②
/		
/		
/		

2

つぎのたしざんをしましょう。

①  $5 + 9$

②  $8 + 9$

	①	②
/		
/		
/		

3

つぎのたしざんをしましょう。

①  $9 + 4$

②  $2 + 9$

	①	②
/		
/		
/		

4

つぎのたしざんをしましょう。

①  $7 + 7$

②  $8 + 8$

	①	②
/		
/		
/		

# 23. くりさがりのあるひきざん



AARNUMA075

1

つぎの ひきざんを しましょう。

①  $11 - 2$

②  $13 - 4$

	①	②
/		
/		
/		

2

つぎの ひきざんを しましょう。

①  $15 - 7$

②  $14 - 9$

	①	②
/		
/		
/		

3

つぎの ひきざんを しましょう。

①  $14 - 8$

②  $13 - 7$

	①	②
/		
/		
/		

4

つぎの ひきざんを しましょう。

①  $18 - 9$

②  $15 - 8$

	①	②
/		
/		
/		

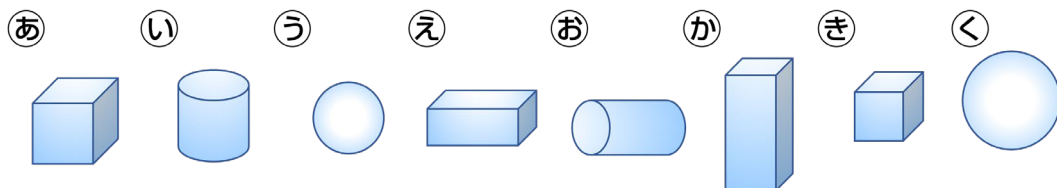
# 24. いろいろなかたち



AARSPPA010

1

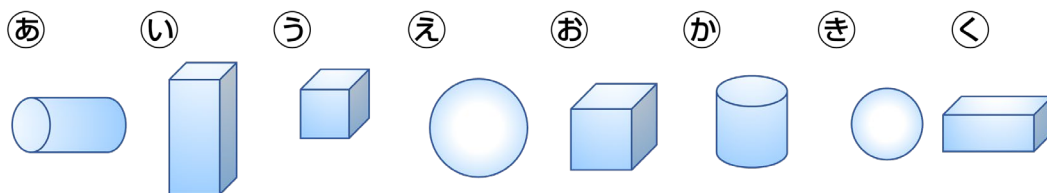
つつのかたちはどれでしょう。



/	
/	
/	

2

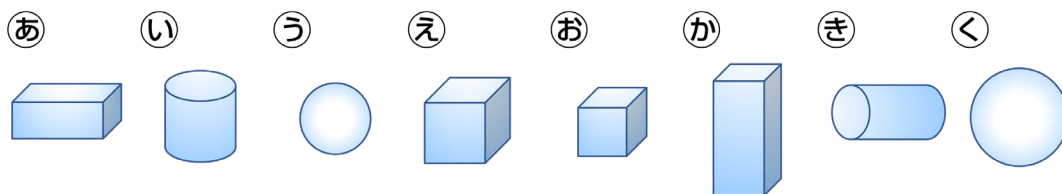
さいころのかたちはどれでしょう。



/	
/	
/	

3

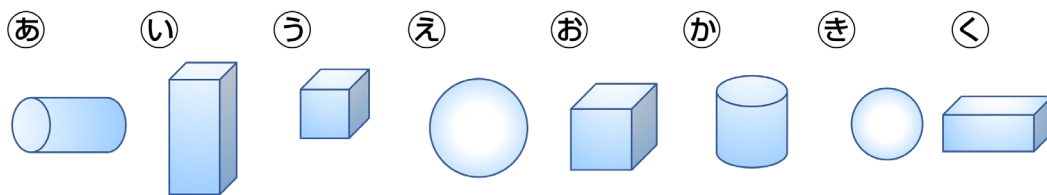
ころがりやすいかたちはどれでしょう。



/	
/	
/	

4

ころがりにくいかたちはどれでしょう。



/	
/	
/	

















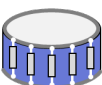



# 25. かたちのなかま



AARSPPA020

1











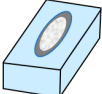









ひだりの かたちと よくにた ものは どれでしょう。

① 	あ  い  う  え 
② 	あ  い  う  え 
③ 	あ  い  う  え 
④ 	あ  い  う  え 

	①	②	③	④
／				
／				
／				

2

ひだりの ものと よくにた かたちは どれでしょう。

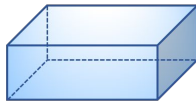
① 	あ  い  う  え 
② 	あ  い  う  え 
③ 	あ  い  う  え 
④ 	あ  い  う  え 

	①	②	③	④
／				
／				
／				

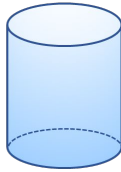
3

ほかとちがうかたちを2つこたえましょう。

あ



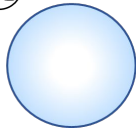
い



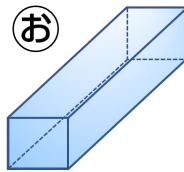
う



え



お



/	
/	
/	

4

おなじかたちをれいにならってこたえましょう。

あ



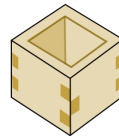
い



う



え



れい あとき

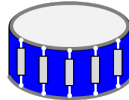
お



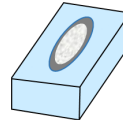
か



き



く



/	
/	
/	

# 26. とけい ちょうど なんじ

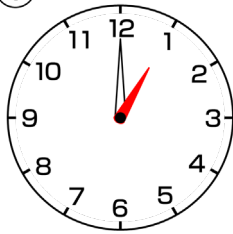


AARMEMA040

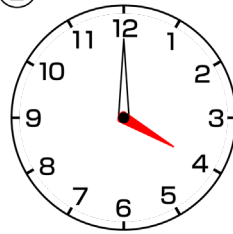
1

なんじでしょう。

①



②

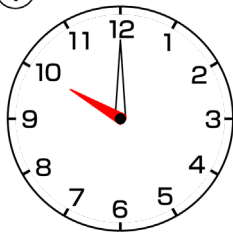


	①	②
/		
/		
/		

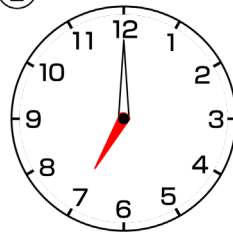
2

なんじでしょう。

①



②

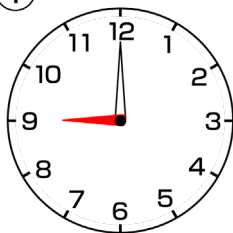


	①	②
/		
/		
/		

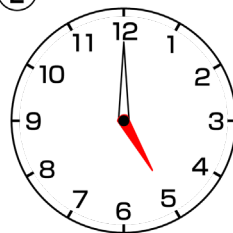
3

なんじでしょう。

①



②

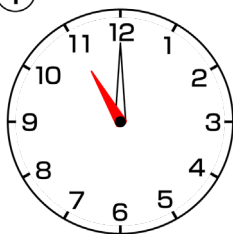


	①	②
/		
/		
/		

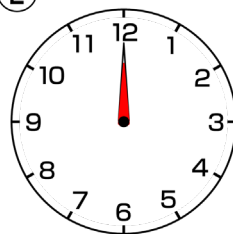
4

なんじでしょう。

①



②



	①	②
/		
/		
/		

# 27. とけい なんじ はん

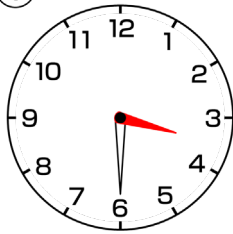


AARMEMA050

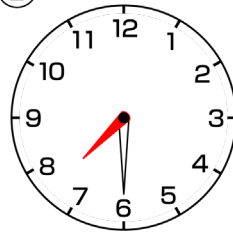
1

なんじでしょう。

①



②

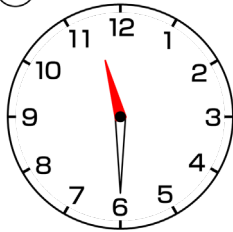


	①	②
/		
/		
/		

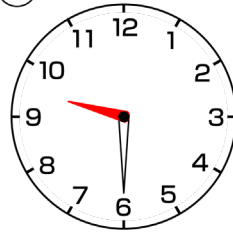
2

なんじでしょう。

①



②

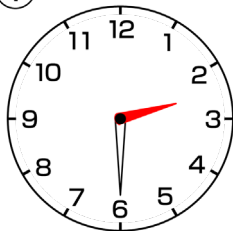


	①	②
/		
/		
/		

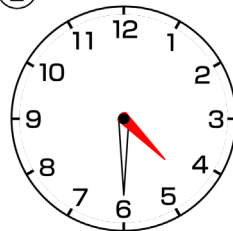
3

なんじでしょう。

①



②

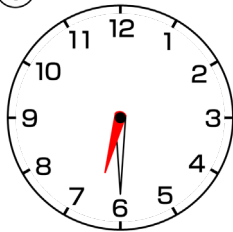


	①	②
/		
/		
/		

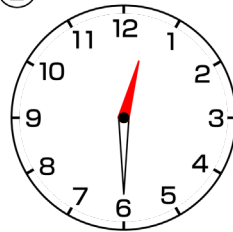
4

なんじでしょう。

①



②



	①	②
/		
/		
/		



# 28. とけい なんじ なんぷん 1

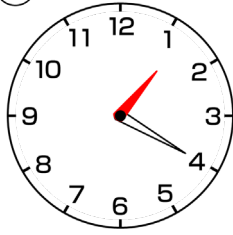


AARMEMA060

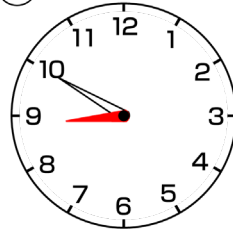
1

なんじでしょう。

①



②

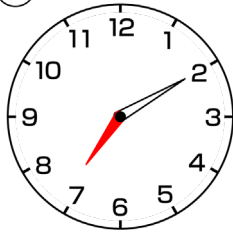


	①	②
/		
/		
/		

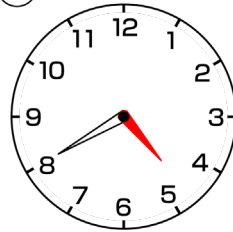
2

なんじでしょう。

①



②



	①	②
/		
/		
/		

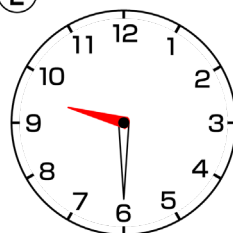
3

なんじでしょう。

①



②



	①	②
/		
/		
/		

4

なんじでしょう。

①



②



	①	②
/		
/		
/		

# 29. とけい なんじ なんぷん 2



AARMEMA065

1

なんじでしょう。

①



②



	①	②
／		
／		
／		

2

なんじでしょう。

①



②



	①	②
／		
／		
／		

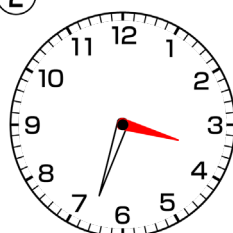
3

なんじでしょう。

①



②

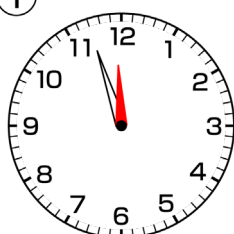


	①	②
／		
／		
／		

4

なんじでしょう。

①



②



	①	②
／		
／		
／		

# 30. 100までのかず



AARNUMA080

1

かずのおおきいほうはどちらでしょう。

① 48 58

② 34 36

	①	②
/		
/		
/		

2

かずのおおきいほうはどちらでしょう。

① 94 49

② 87 88

	①	②
/		
/		
/		

3

□にあてはまるかずをかきましょう。

① 18-19-□-□-□-23

② □-□-81-82-□-84

	①	②
/		
/		
/		

4

□にあてはまるかずをかきましょう。

① 57-58-□-□-61-□

② □-□-□-31-32-33

	①	②
/		
/		
/		

# 31. たしざん $30+20$



AARNUMA085

1

つぎのたしざんをしましょう。

①  $50+10$

②  $20+60$

	①	②
/		
/		
/		

2

つぎのたしざんをしましょう。

①  $40+30$

②  $50+30$

	①	②
/		
/		
/		

3

つぎのたしざんをしましょう。

①  $20+80$

②  $60+30$

	①	②
/		
/		
/		

4

つぎのたしざんをしましょう。

①  $70+30$

②  $40+50$

	①	②
/		
/		
/		

# 32. たしざん 50+6



AARNUMA090

1

つぎのたしざんをしましょう。

①  $10+8$

②  $20+3$

	①	②
/		
/		
/		

2

つぎのたしざんをしましょう。

①  $40+9$

②  $60+2$

	①	②
/		
/		
/		

3

つぎのたしざんをしましょう。

①  $8+70$

②  $5+50$

	①	②
/		
/		
/		

4

つぎのたしざんをしましょう。

①  $90+8$

②  $6+30$

	①	②
/		
/		
/		

# 33. たしざん $23+4$



AARNUMA095

1

つぎのたしざんをしましょう。

①  $66+1$

②  $92+4$

	①	②
/		
/		
/		

2

つぎのたしざんをしましょう。

①  $8+41$

②  $7+72$

	①	②
/		
/		
/		

3

つぎのたしざんをしましょう。

①  $25+70$

②  $64+10$

	①	②
/		
/		
/		

4

つぎのたしざんをしましょう。

①  $38+60$

②  $40+44$

	①	②
/		
/		
/		

# 34. ひきざん 50-30



AARNUMA100

1

つぎの ひきざんを しましょう。

①  $20-10$

②  $30-10$

	①	②
/		
/		
/		

2

つぎの ひきざんを しましょう。

①  $50-20$

②  $70-40$

	①	②
/		
/		
/		

3

つぎの ひきざんを しましょう。

①  $100-60$

②  $80-50$

	①	②
/		
/		
/		

4

つぎの ひきざんを しましょう。

①  $100-10$

②  $90-30$

	①	②
/		
/		
/		

# 35. ひきざん 55-20



AARNUMA105

1

つぎの ひきざんを しましょう。

①  $47 - 10$

②  $62 - 30$

	①	②
/		
/		
/		

2

つぎの ひきざんを しましょう。

①  $24 - 20$

②  $98 - 40$

	①	②
/		
/		
/		

3

つぎの ひきざんを しましょう。

①  $59 - 50$

②  $61 - 50$

	①	②
/		
/		
/		

4

つぎの ひきざんを しましょう。

①  $83 - 70$

②  $67 - 40$

	①	②
/		
/		
/		



# 36. ひきざん 55-3



AARNUMA110

1

つぎの ひきざんを しましょう。

①  $38 - 5$

②  $64 - 3$

	①	②
/		
/		
/		

2

つぎの ひきざんを しましょう。

①  $88 - 7$

②  $45 - 2$

	①	②
/		
/		
/		

3

つぎの ひきざんを しましょう。

①  $29 - 7$

②  $63 - 2$

	①	②
/		
/		
/		

4

つぎの ひきざんを しましょう。

①  $96 - 5$

②  $77 - 4$

	①	②
/		
/		
/		

# 37. ひきざん 55-23



AARNUMA112

1

つぎの ひきざんを しましょう。

①  $34 - 12$

②  $28 - 14$

	①	②
/		
/		
/		

2

つぎの ひきざんを しましょう。

①  $69 - 62$

②  $54 - 43$

	①	②
/		
/		
/		

3

つぎの ひきざんを しましょう。

①  $86 - 42$

②  $75 - 33$

	①	②
/		
/		
/		

4

つぎの ひきざんを しましょう。

①  $59 - 46$

②  $29 - 24$

	①	②
/		
/		
/		

# 38. ひきざん 12-8



AARNUMA114

1

つぎの ひきざんを しましょう。

①  $15-7$

②  $18-9$

	①	②
/		
/		
/		

2

つぎの ひきざんを しましょう。

①  $12-7$

②  $17-9$

	①	②
/		
/		
/		

3

つぎの ひきざんを しましょう。

①  $13-5$

②  $11-7$

	①	②
/		
/		
/		

4

つぎの ひきざんを しましょう。

①  $17-8$

②  $14-8$

	①	②
/		
/		
/		

# 39. おなじかずずつくばる



AARNUMA116

1

みかんをひとりに3こずつくばります。

- ① 2人ぶんは なんこでしょう。
- ② 4人ぶんは なんこでしょう。

	①	②
／		
／		
／		

2

えんぴつをひとりに4ほんずつくばります。

- ① 2人ぶんは なんほんでしょう。
- ② 4人ぶんは なんほんでしょう。

	①	②
／		
／		
／		

3

ノートをひとりに3さつずつくばります。

- ① 3人ぶんは なんさつでしょう。
- ② 5人ぶんは なんさつでしょう。

	①	②
／		
／		
／		

4

クッキーをひとりに5まいずつくばります。

- ① 4人ぶんは なんまいでしょう。
- ② 6人ぶんは なんまいでしょう。

	①	②
／		
／		
／		

# 40. おなじかずずつわける



AARNUMA118

1

ケーキが 10こ あります。2こずつ おさらに  
のせるには、おさらは なんまい いるでしょう。

/	
/	
/	

2

クッキーが 12まい あります。ひとりに3まいずつ  
くばると なんにんに くばれるでしょう。

/	
/	
/	

3

えんぴつが 16ほん あります。ひとりに4ほんずつ  
くばると なんにんに くばれるでしょう。

/	
/	
/	

4

おりがみが 25まい あります。ひとりに 5まいずつ  
くばると なんにんに くばれるでしょう。

/	
/	
/	

# 41. たしざんとひきざんのもんだい



AARNUMA120

1

すいそうのなかに きんぎょが 12ひきいます。おなじ  
すいそうに かってきた きんぎょを 6ひきいれました。  
きんぎょは ぜんぶで なんびきになったでしょう。

/	
/	
/	

2

あつめていたカードが13まいあります。  
このなかから 6まいを おとうとに あげました。カードは  
なんまい のこっているでしょう。

/	
/	
/	

3

おかしを ひとりに1こずつ くばります。  
おとこのこが 7にん、おんなのこが 9人います。おかしは  
なんこ よういすれば よいでしょう。

/	
/	
/	

4

ねんがじょうを18まい だそうと おもいます。いえにある  
ねんがはがきを かぞえたら 12まい ありました。  
あと なんまい かえばいいでしょう。

/	
/	
/	

# 42. 三かく・四かく・まる



AARSPPA030

1

三かく・四かく・まるについてまとめましょう。

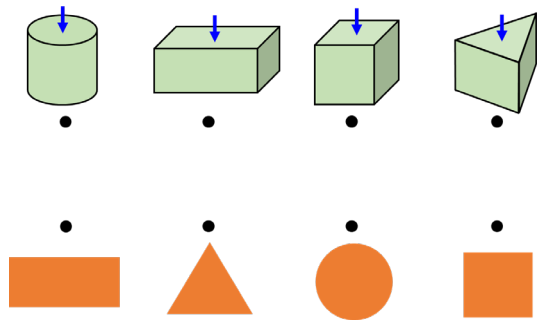
かどのかず まっすぐなせんのかず

三かく ( )こ ( )本  
 四かく ( )こ ( )本  
 まる ( )こ ( )本

/	
/	
/	

2

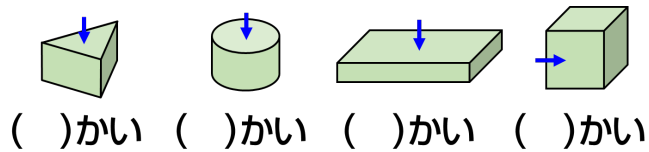
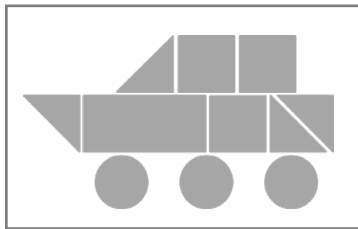
つぎの やじるしの ところに  
 インクをつけて かみにおし  
 ました。  
 できる かたちと せんで むす  
 びましょう。



/	
/	
/	

3

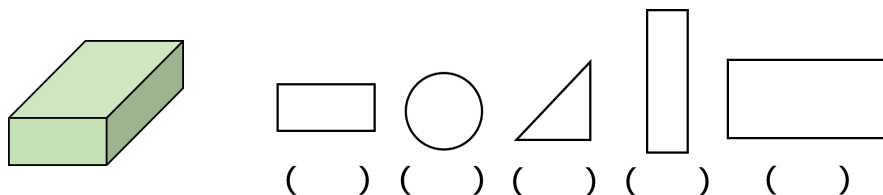
つぎの やじるしの ところに インクをつけて かみにおしました。  
 それぞれ なんかい おしたでしょう。



/	
/	
/	

4

つぎの はこに インクをつけて かみにおしました。  
 できる かたちに ○をつけましょう。



/	
/	
/	

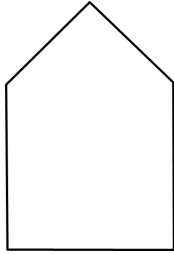
# 43. かたちづくり



AARSPPA035

1

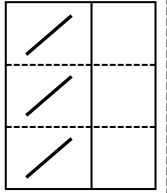
したのかたちは、がなんまいできているでしょう。



つかう三かく

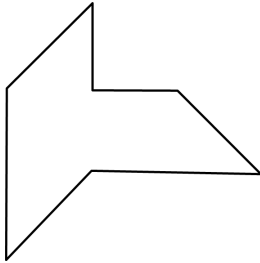


( ) まい



2

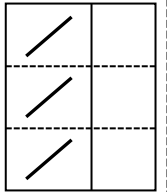
したのかたちは、がなんまいできているでしょう。



つかう三かく

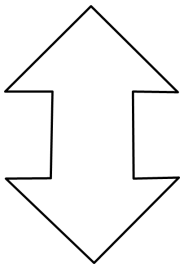


( ) まい



3

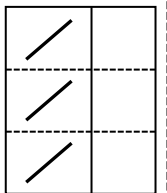
したのかたちは、がなんまいできているでしょう。



つかう三かく

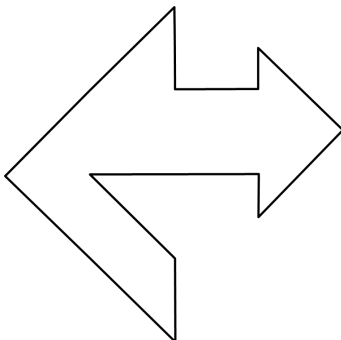


( ) まい



4

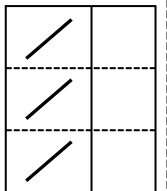
したのかたちは、がなんまいできているでしょう。



つかう三かく



( ) まい





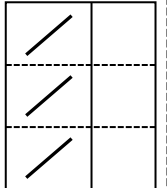
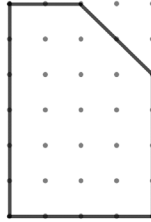
# 44. かたちをうつす



AARSPPA040

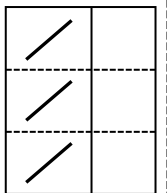
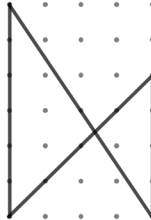
1

ひだりの かたちと おなじ  
かたちを かきましょう。



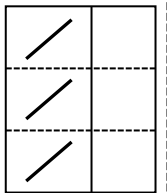
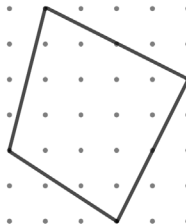
2

ひだりの かたちと おなじ  
かたちを かきましょう。



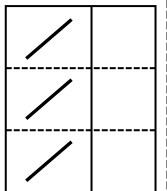

3

ひだりの かたちと おなじ  
かたちを かきましょう。



4

ひだりの かたちと おなじ  
かたちを かきましょう。



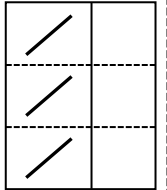
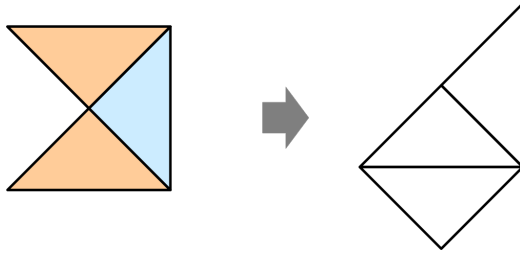
# 45. かたちをかえる



AARSPPA045

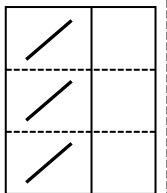
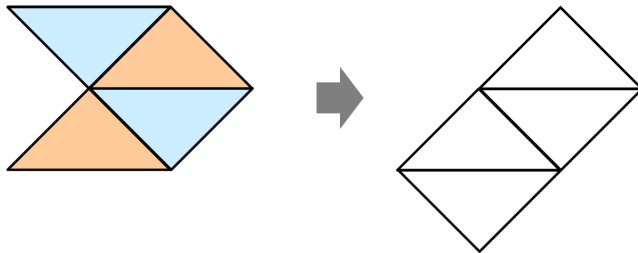
1

いろいたを1まい うごかして かたちをかえました。うごかしたいろいたに○をつけましょう。



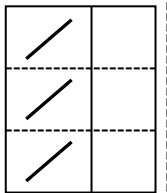
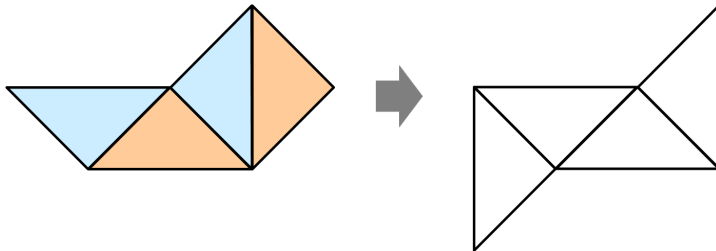
2

いろいたを1まい うごかして かたちをかえました。うごかしたいろいたに○をつけましょう。



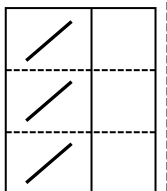
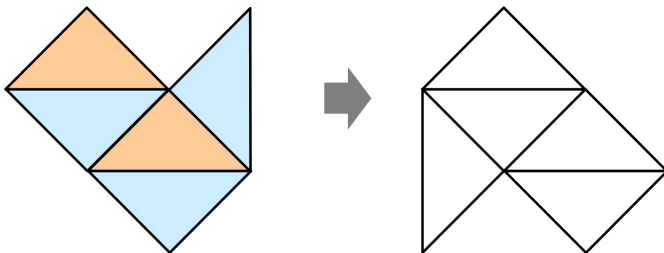
3

いろいたを1まい うごかして かたちをかえました。うごかしたいろいたに○をつけましょう。



4

いろいたを1まい うごかして かたちをかえました。うごかしたいろいたに○をつけましょう。



# 46. おおいほう、すくないほう



AARNUMA125

1

よしこさんの クラスの おとこのこは 12にん います。  
おんなのこは それより 5にん おおい そうです。  
おんなのこは なんにん でしょう。

/	
/	
/	

2

かごのなかに りんごと なしが はいっています。りんごは  
18こで、なしは りんごより 9こ すくない そうです。  
なしは なんこ でしょう。

/	
/	
/	

3

ゆうたさんは れつの まえから 7ばんめにならんでいます。  
ゆうたさんの うしろには 5にん ならんでいます。  
れつにならんでいるのは ぜんぶで なんにん でしょう。

/	
/	
/	

4

あかいいろがみが 20まい あります。あおいいろがみは、  
あかいいろがみより 6まい すくない そうです。  
あおいいろがみは なんまい ある でしょう。

/	
/	
/	